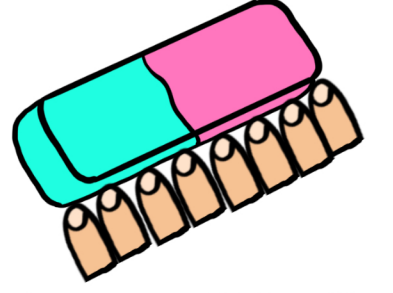

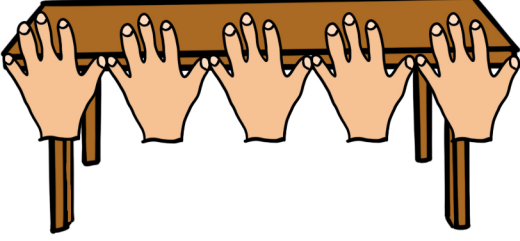


# STANDART OLMAYAN UZUNLUK ÖLÇÜLERİ


Parmak: İşaret parmağımızı yan yana koyup sayarak yaptığımız ölçümdür.



Karış: Elimizi açtığımızda baş parmağımız ile serçe parmağımız arasındaki mesafe 1 karışıdır.



Kulaç: Kollarımızı iki yana açtığımızda, iki elimizin en uç noktaları arasında kalan uzunluk 1 kulaştır.




@zehra\_ogrtmn

Ayak: Bir ayağımızı diğer ayağımızın önüne hiç boşluk bırakmadan getirerek yürüdüğümüzde ayak ile ölçme yapmış oluruz.




Adım: Yürürken ayaklarımızın arasında kalan boşluğa adım denir.



# UZUNLUKLARI ÖLÇELİM

Aşağıdaki görselleri isimleri ile eşleştirelim.



kariş







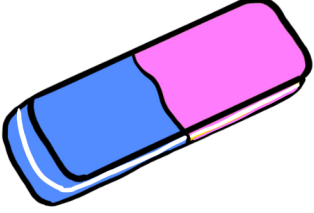
adım

ayak

kulaç

parmak

Hangisi ile ölçeriz yazalım.




## Aşağıdaki soruları cevaplandıralım.




1. Ailenin en kısa boylusu kimdir ? .....
2. Ailenin en uzun boylusu kimdir? .....
3. Elif ile Bera'nın boyları farkı kaç karıştır? .....
4. Sefa ile Elif'in boyları toplamı kaç karıştır ? .....
5. Bera ile Sefa'nın boyları farkı kaç karıştır? .....
6. En uzun boylu ile en kısa boylunun boyları farkı kaç karıştır? .....
7. Annenin boyu ile Elif'in boyları farkı kaç karıştır?  
.....
8. Baba ile Bera'nın boyları toplamı kaç karıştır? .....
9. Kardeşlerin boyları toplamı kaç karıştır? .....


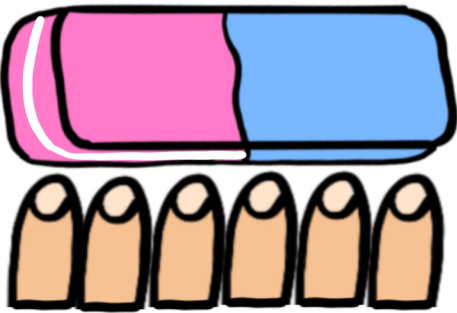
Aşağıda verilen görsellerden uzunlukları boşluklara yazınız.



Çiftçi ile tırmık arasındaki mesafe .....dır.



Köpek ile kemik arasındaki mesafe .....tır.



Silgi .....tır.

Tahtanın boyu .....tır.



# UZUNLUK ÖLÇÜLERİ SORULAR




1. Yandaki çocuğun yaptığı ölçüm türü nedir?

A) Kulaç

B) Adım

C) Ayak

2. Hangisinin boyunu adımla ölçemeyiz?




3. Aşağıdakilerden hangisinin uzunluğu en kısadır?

A) 4 parmak

B) 2 karış


C) 5 ayak

4.



Yukarıda verilen varlıklar arasındaki uzaklık, aşağıdakilerden hangisi ile ölçülemez?

A)



B)

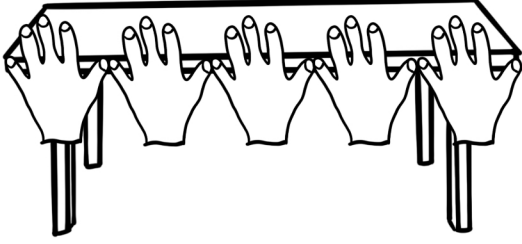
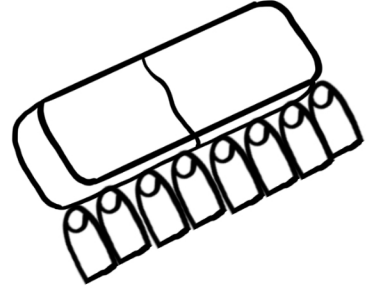



C)



# STANDART OLMAYAN UZUNLUK ÖLÇÜLERİ


Parmak: İşaret parmağımızı yan yana koyup sayarak yaptığımız ölçümdür.



Karış: Elimizi açtığımızda baş parmağımız ile serçe parmağımız arasındaki mesafe 1 karıştır.



Kulaç: Kollarımızı iki yana açtığımızda, iki elimizin en uç noktaları arasında kalan uzunluk 1 kulaçtır.




@zehra\_ogrtmn



Ayak: Bir ayağımızı diğer ayağımızın önüne hiç boşluk bırakmadan getirerek yürüdüğümüzde ayak ile ölçme yapmış oluruz.




Adım: Yürürken ayaklarımızın arasında kalan boşluğa adım denir.



# UZUNLUKLARI ÖLÇELİM

Aşağıdaki görselleri isimleri ile eşleştirelim.



karış


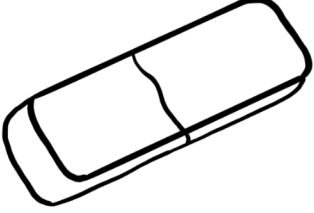
adım

ayak

kulaç

parmak


Hangisi ile ölçeriz yazalım.



.....

.....


.....



.....

.....


Aşağıdaki soruları cevaplandırırım.



- 1.Ailenin en kısa boylusu kimdir ? .....
- 2.Ailenin en uzun boylusu kimdir? .....
- 3.Elif ile Bera'nın boyları farkı kaç karıştır? .....
- 4.Sefa ile Elif'in boyları toplamı kaç karıştır ? .....
- 5.Bera ile Sefa'nın boyları farkı kaç karıştır? .....
- 6.En uzun boylu ile en kısa boylunun boyları farkı kaç karıştır? .....
- 7.Annenin boyu ile Elif'in boyları farkı kaç karıştır?  
.....
- 8.Baba ile Bera'nın boyları toplamı kaç karıştır? .....
- 9.Kardeşlerin boyları toplamı kaç karıştır? .....



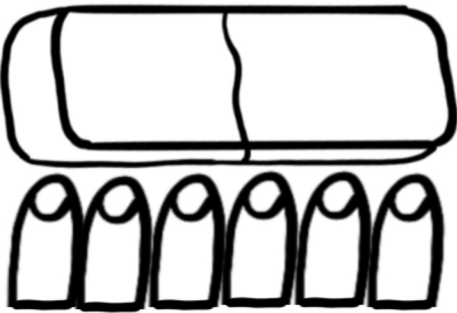
Aşağıda verilen görsellerden uzunlukları boşluklara yazınız.




Çiftçi ile tirmık arasındaki mesafe .....dır.



Köpek ile kemik arasındaki mesafe .....tır.




Silgi .....tır.



Tahtanın boyu .....tır.

@zehra\_ogrtmn

# UZUNLUK ÖLÇÜLERİ SORULAR





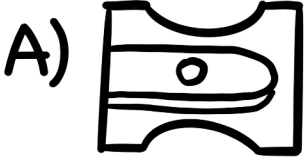
1.Yandaki çocuğun yaptığı ölçüm türü nedir?

A) Kulaç

B) Adım

C) Ayak

2. Hangisinin boyunu adımla ölçemeyiz?



3.Aşağıdakilerden hangisinin uzunluğu en kısadır?

A)4 parmak

B)2 karış

C)5 ayak



Yukarıda verilen varlıklar arasındaki uzaklık, aşağıdakilerden hangisi ile ölçülemez?

