

TÜRKÇE BÖLÜMÜ

Şerife Bacı'nın Türküsü

İnebolu, İnebolu,
Her yanımız düşman dolu.
Kar kaplamış dört bir yolu,
Küre dağı yol ver gideyim...

Sarı öküz yürümez mi?
Ayakların sürümez mi?
Elif kızım ağlamaz mı? ...

Küre dağı, küre dağı,
Mermi bekler er ocağı,
Dizlerimin tutmaz bağı,
Küre dağı bel ver gideyim...

Batur Nafiz Tançağlar

1-Yukarıda okuduğunuz yazının türü nedir?

- A)Hikaye
- B)Şiir
- C) Masal
- D)Roman

2-Yukarıdaki yazıda hangi satırda iki farklı zıt anlamlı kelime birden kullanılmıştır?

- A) 1. kıta 1. satır
- B) 2. kıta 1. satır
- C) 3. kıta 1. satır
- D) 1. kıta 2. satır

3-Yukarıdaki yazıda geçen " Dizlerimin tutmaz bağı" cümlesindeki altı çizili kelime hangi anlamda kullanılmıştır.

- A)gerçek B)mecaz C) terim D)asıl

4-nefer-nefes -nefis -leziz

Yukarıdaki kelimeler alfabetik sıraya dizildiğinde baştan 2. kelime hangisi olur?

- A)leziz B) nefer C) nefes D)nefis

5-Bardak ağzına kadar su dolu.

Yukarıda altı çizili kelime hangi anlamda kullanılmıştır.

- A)gerçek B)mecaz C)terim D)sıfat

6- Eyvah ,tipi başladı () Şerife Bacı aldırış etmeden yürüdü () Evladının battaniyesini örttü cephanenin üstüne() Vatan kurtarmak kolay mıydı ki () Yukarıdaki cümlede parantez içlerine sırayla hangi noktalama işaretleri konur ?

- A) (!) (.) (.) (?) B) (.) (.) (.) (?)
- C) (-) (-) (.) (!) D) (!) (.) (.) (?)

7- Aşağıdaki kelimelere gelen eklerden hangisi doğru ayrılmıştır ?

- A)Eymen' ler B)Kastamonu'dan
- C)Ali'gil D)Ankara'lılar

8- Aşağıdaki cümlelerin hangisinde özel isimlerin yazımı ile ilgili bir yanlışlık yapılmıştır.

- A)Kazım Paşa doğu komutanıydı.
- B)İsmet Paşa batı cephesi komutanıydı
- C) Düşman izmir'den denize atıldı.
- D)Atatürk ilk cumhurbaşkanı oldu.

9-Hangi cümlede tuttu kelimesi yakaladı anlamında kullanılmıştır?

- A)Erkan'ın diktiği çiçekler tuttu.
- B)Defneler bizim takımı tuttu.
- C)Yavuz penaltıda topu harika tuttu.
- D)Ben de sen gibi Fener'i tutuyorum.

10-Hangi kelimedeki tüm sesli harfler incedir?

A)Yasemin B) Işık C) tıraş D)tren

11-Hangi cümlede ünsüz yumuşaması örneği vardır?

A)Ayşe bizim evde misafir oldu.
B)Tilki kuyruğunun acısını hissetti.
C)Buse bugün yumuşak bir yastık aldı.
D)Vedat neden hâlâ gelmedi?

12-Hangi cümlede eş sesli bir kelime yoktur?

A)Bugün ocakta ciğer yaptık.
B)Kara bir at ile geçti gitti yoldan.
C)Beyaz bir kuş gördüm.
D)Bahçeyi kazdım.

13-Aşağıdaki eş anlamlı kelime eşleştirmelerinden hangisi yanlıştır?

A)Uzay-Sema B)Kas-Adale
C)Kara-siyah D)Deprem-zelzele

14-Hangi kelime hecelerine yanlış ayrılmıştır?

A) tı-raş B)bah-çe-den
C) ilk-o-kul D)ha-nı-me-li

15-Aşağıdaki cümlelerin hangisinde neden sonuç cümlesi vardır?

A)Ahmet yarın okulda olmayacak.
B)Ahmet hasta olduğundan maçta oynayamaz.
C)Ahmet köpeğini çok seviyor.
D)Ahmet ödevlerini zamanında yapar.

16-Aşağıdaki cümlelerin hangisinde "de" ve "ki" ekinin yazımı ile ilgili bir yanlışlık yapılmıştır.

A) Derslerine çok çalış ki taktir belgesi alabilesin.
B)Bugün bize Ali de gelecek.
C)Size Alide mi geldi ?
D) Sanki bugün sayımız eksik.

MATEMATİK BÖLÜMÜ

1- 4 basamaklı en küçük tek sayı ile 4 basamaklı en küçük çift sayının toplamı kaç eder?

A)2002 B)2001 C)2010 D)2022


2- "Yüz iki bin beş"

Sayısının en yakın onluğa yuvarlanmış hali aşağıdakilerden hangisidir?

A)102005 B)102010 C)102100 D)1010

3-Melike 5 deste ile 3 düzineyi toplamak istemektedir.Melike işlemi doğru yaparsa sonucu kaç olarak bulur?

A) 80 B)90 C)96 D)86

4- 

Yukarıdaki örüntüye göre "?" yerine ne gelmelidir?

A) 8 B) 15 C)35 D)45

5- 2001-20010-102000-1200

Yukarıdaki sayıların büyükten küçüğe sıralandığında sondan ikinci sayı hangisi olur?

a)1200 b)102000 c)20010 d)2001

6- 5 binlik+7 on binlik+8 yüzlük +2 onluktan oluşan sayı aşağıdakilerden hangisidir?

- a) 75820 b)70280 c)7058 d)2875



İstanbul'dan Elazığ'a giden bir yolcu otobüsünde 42 yolcu vardır.

*Ankara otogarında iki basamaklı en küçük tek sayı kadar yolcu inmiştir.

*Kayseri otogarında ise iki basamaklı en büyük çift sayının yarısının 39 eksiği kadar yolcu binmiştir.

Buna göre Bolu çıkışında otobüste kaç yolcu vardır?

- A)45 B) 43 C)41 D)51



8-

8	X	9	=	
9	+	4	=	

Yukarıdaki bilgilere göre kaçtır?

- A) 128 B) 118 C) 108 d)85

9-"Sekiz yüz otuz altı bin beş"

Sayısının yazılışı aşağıdakilerden hangisidir?

- a)836050 b)836005 c)86500 d)836105

10- 8536 > A B < 10

A yerine gelebilecek en büyük sayı ile B yerine gelebilecek en büyük çift sayının farkı kaçtır?

- A) 8526 b)8531 C)8528 D)8547

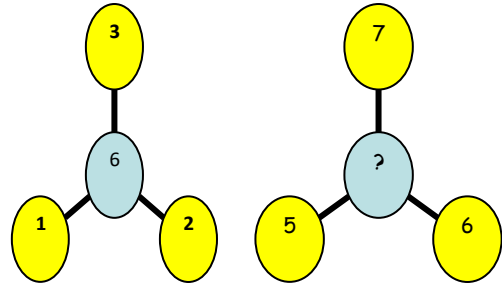
11- 225'ten başlayıp biner biner ileriye doğru saydığımızda baştan 4. sayı kaç olur.

225 - - - ?

- A)5225 B)4525 C)3225 D)5525

12- En yakın onluğu 1220 olan en büyük sayı kaçtır?

- A)1219 B)1221 C)1225 D)1224



Yukarıdaki renkler arasında bir bağlantı vardır. Buna göre ? ile gösterilen yere hangi sayı gelmelidir?

- A)8 B)10 C)14 D)18

14-



*Yukarıdaki uçak ve trendeki yolcu sayıları 3 basamaklıdır. Trende daha çok yolcu vardır. Trendeki yolcu sayısının yüzler basamağında 1 vardır. Uçaktaki yolcu sayısı

tek basamaklı olduğuna göre uçakta en fazla kaç yolcu olabilir?

- A)102 B)197 C)198 D)199

SOSYAL BİLGİLER



1-Aşağıdaki olaylardan hangisi kronojik olarak en sonda yer alır.

- A)Arda Fenerbahçe'ye 2019 yılında transfer oldu.
B)Arda 2005 yılında doğdu.
C)Futbola 2014 yılında Gençlerbirliği altyapısı ile başladı

D) 2022 yılında dünyanın en değerli genç futbolcuları listesinde yer aldı

2-Aşağıdakilerden hangisi sadece bize ait olan bir özellik değildir.

- a)Parmak izi b)T.C. Kimlik No
c)Yonga d)Yaşadığımız il

3-Hangisi güçlü yönlerimizdendir?

- A)Yenildiğimizde kavga çıkarmak.
B)Hata yaptığımızda hatamızı anlayıp özür dilemek.
C)Gün içinde dinlenmeden sürekli çalışmak.
D)Gün içinde sürekli uyumak.

4-Aşağıdakilerden kaç tanesi T.C. kimlik kartımızda yer almaktadır.

- I: Soyadımız
II:Cinsiyetimiz
III:Kan grubumuz
IV:Göz rengimiz

- a) 1 b) 2 c)3 d) 4

- 5- I:Kin II: Nefret
III: Empati:
IV:Sempatı: V:Şefkat

Yukarıdaki duygulardan kaç tanesi olumlu duygudur?

- a) 2 b)3 c)4 d)5

4/B sınıfından Vedat,teneffüste futbol maçı oynayan arkadaşlarının yanlarına gitti.Kendisinin de oyuna alınmasını istedi.Arkadaşları geç kaldığı için ve takımların kurulu olmasından dolayı Vedat'ı oyuna almadılar.Bu duruma çok üzülen Vedat, kenara oturarak sessizce zilin çalmasını bekledi.

6- Yukarıdaki metinde geçen Vedat'ın arkadaşlarından hangisinin sözü empati kuran bir öğrenciye ait olabilir?

- a) **Tunahan:**Geç kalmazsan her maça alınırsın.
b) **Eymen:** Sen de hep böyle yapıyorsun zaten
c) **İbrahim:**Seni anlıyorum üzülmekte haklısın, diğer teneffüs hep birlikte oynarız.
d) **Abdullah:** Altı üstü bir maç ,bunun için üzülür mü insan?




7-Yandaki resimde Okan ve anne babasının fotoğrafı verilmiştir.Okan anne ve babasının kimliğine baktığında hangi bilgiler aynı olamaz?

- a) Doğum yeri b) T.C. Kimlik No
c) Soy isim d) Uyruğu

8-Aşağıdakilerden hangisi milli kültürümüze ait bir unsur değildir?

- a)güreş b)yoğurt c)pizza d)cirit oyunu

FEN BİLİMLERİ



1- Dünyanın katmanlarının içten dışa doğru sıralanışı hangi şıkta doğru verilmiştir?

- A) ağır küre, ateş küre ,taş küre
B) ateş küre, taş küre, su küre
C) ağır küre, taş küre ,ateş küre
D) su küre, ağır küre, hava küre

2- Aşağıdakilerden hangisi üzerinde yaşadığımız kayaç ve topraklardan oluşan dünya katmanının diğer adıdır?

- a) ağır küre b) taş küre
c) su küre d) ateş küre

Yapısında mineral bulunduran kaya, taş, çakıl ve kumlara deriz. Kayaçlar su, rüzgâr, güneş ısı veya dünyanın içinde meydana gelen hareketler nedeniyle zamanla

3- Yukarıdaki metinde boş bırakılan yerlere sırayla hangi sözcükler gelmelidir?

- a) fosil-ayırıştır b) kayaç-parçalanır
c) maden -parçalanır d) çevre -dağılır

4- Geçmişte yaşamış bitki ve hayvan kalıntılarını günümüze ulaştırmış haline denir?

Yukarıdaki metinde boşluğa gelmesi gereken sözcük aşağıdakilerden hangisidir?

- a) maden b) fosil c) hazine d) piramit

5- Fosilleri inceleyen bilim adamına ne denir?

- a) arkeolog b) minerolog c) psikolog
d) paleontolog

6- Aşağıdaki bilgilerden hangisi yanlıştır?

A) Demir ,krom, bakır, fosfat ,mermer ve bor ülkemizde en az çıkarılan madenlerdir.

B) Bor madeni ülkemizde en çok Eskişehir Kırka ve Kütahya Emet'te çıkarılmaktadır.

C) Dünya bor rezervinde Türkiye birinci sıradadır.

D) Demir madeni ülkemizde Sivas, Kayseri, Malatya, Balıkesir, İzmir, Bingöl ve Kahramanmaraş'ta çıkarılmaktadır

7- Fosilleri inceleyen bilim dalına paleontoloji denir. Yukarıdaki fosillere bakan bir paleontolog hakkında aşağıdakilerden hangisi söylenemez?

A) Yaşadıkları dönem hakkında bilgi sahibidirler.

B) Ölen her canlının fosilleşebileceğine emindirler.

C) Bu canlıların bulunduğu ortamı tahmin edebilirler.

D) Bazı fosillerin kayaç bazılarının buzullarda olabileceğini önceden bilirler.

İNGİLİZCE -VATANDAŞLIK -DİN - TRAFİK SORULARI



1- Görseldeki köpek için uygun olan şık aşağıdakilerden hangisidir?

- a) open the window b) stand up
c) drink milk d) run fast



2- Görseldeki işaret için uygun olan seçenek aşağıdakilerden hangisidir?

- a) be quiet b) come here
c) open the door d) sit down



3-"Tahtayı sil " İngilizce karşılığı aşağıdakilerden hangisidir?

- a) clean the door
- b) open the door
- c) clean the board
- d) close the board

4-Thirty nine + Six = ?

Soru işareti yerine aşağıdaki sayılardan hangisi gelmelidir?

- a)43
- b)39
- c)45
- d)46

VATANDAŞLIK

1--Her insanın doğuştan gelen vardır.Başkalarının yaşama şekline yön vermeden kendi yaşamımıza yön verme özgürlüğüne denir.

Yukarıdaki noktalı yerlere gelecek cevaplar aşağıdakilerden hangisi olabilir?

- A)İlgileri -hakları B)hakları- paraları
- C)hakları- hak D)hakları -özgürlük

2-Aşağıdakilerden hangisi yanlıştır?

- A)İnsanın en temel hakkı yaşama hakkıdır.
- B)Temel haklar doğuştan elde edilir.
- C)İnsanların eğitim ve sağlık hakkı elinden alınamaz
- D)Her birey 18 yaşından sonra temel haklarını elde eder.

DİN KÜLTÜRÜ

1- Aşağıdakilerden hangisi hamd ifadesi değildir?

- a) Elhamdülillah
- b) Hamd olsun
- c) Allahısmarladık
- d) Allaha hamd olsun



2- Aşağıdakilerden hangisi günlük hayatta kullandığımız selamlaşmanın faydalarından değildir?

- a) Dostluğu artırır
- b) İnsanları birbirine düşürür
- c) Kaynaşmayı ve bağlılığı artırır.
- d) Kını ve öfkeyi azaltır.

TRAFİK



1- Yandaki levhanın anlamı nedir?

- a)trafik geçidi
- b)yaya geçidi
- c)tren geçidi
- d) yürüme yolu

2-Karayollarının iki yanında bulunan ve yayaların yürümesine, gerektiğinde taşıtların trafiğe engel olmadan durabilmesine yarayan toprak ya da çakıl döşeli bölüme ne denir?

- A)Kaldırım
- B)Yol üstü
- C) Banket
- D)Anayol

BAŞARILAR

Halil SÜNGÜ

Türkçe : 1B-2D-3B-4B-5A-6A-7B-8C-9C-10D-11B-
12C-13A-14C-15B-16C

Matematik:1B-2B-3D-4B-5D-6A-7C-8D-9B-10A-11C-
12D-13D-14B

Sosyal Bilgiler: 1D-2D-3B-4C-5B-6C-7B-8C

Fen Bilimleri:1A-2B-3B-4B-5D-6A-7B

İngilizce:1B-2A-3C-4C

Vatandaşlık:1C-2D

Din Kültürü: 1C-2B

Vatandaşlık :1B-2C