

TEK VE ÇİFT DOĞAL SAYILAR


Üzerinde tek sayı yazan balıkları pembeye, çift sayı yazan balıkları sarıya boyayın.



.....



.....



3 BASAMAKLI TEK VE ÇİFT DOĞAL SAYILAR

1) Aşağıdaki rakamlarla oluşturulabilecek 3 basamaklı en büyük tek sayı kaçtır?

8,5,6,3,0 →

2) Aşağıdaki rakamlarla oluşturulabilecek 3 basamaklı en küçük tek sayı kaçtır?

1,6,7,3,4 →

3) Aşağıdaki rakamlarla oluşturulabilecek 3 basamaklı en büyük çift sayı kaçtır?

5,0,6,8,2 →

4) Aşağıdaki rakamlarla oluşturulabilecek 3 basamaklı en küçük çift sayı kaçtır?

9,4,3,8,2 →

5) Aşağıdaki rakamlarla oluşturulabilecek 3 basamaklı en küçük çift sayı kaçtır?

7,6,0,8,3 →

6) Aşağıdaki rakamlarla oluşturulabilecek 3 basamaklı en büyük çift sayı kaçtır?

6,4,0,9,7 →

7) Aşağıdaki rakamlarla oluşturulabilecek yüzler basamağında 4 olan üç basamaklı en büyük tek sayı kaçtır?



8,3,5,4,1 →











8) Aşağıdaki rakamlarla oluşturulabilecek onlar basamağında 6 olan üç basamaklı en küçük çift sayı kaçtır?

6,8,3,0,5 →

9) Aşağıdaki rakamlarla oluşturulabilecek yüzler basamağında 7 olan en büyük tek sayı kaçtır ?

9,7,6,5,1 →





TEK VE ÇİFT DOĞAL SAYILAR

Üzerinde tek sayı yazan balıkları pembeye, çift sayı yazan balıkları sarıya boyayın.



.....



.....

