

NESNE SAYISINI BELİRLEME



Bunları Unutma

Rakam: Sayıları yazmak için kullanılan işaretlere **rakam** denir. Rakamlar; 0,1,2,3,4,5,6,7,8,9 olmak üzere 10 tanedir.

Doğal Sayı: Sıfırdan başlayıp birer birer artarak devam eden sayılara **doğal sayılar** denir.

Örnek: 0,1,2,3,4,5,6,7,8,9,10,11,12,13,14,15,16...

Bir Basamaklı Doğal Sayılar: Bir tane rakam ile yazılan sayılardır.

Örnek: 0,1,2,3,4,5,6,7,8,9

İki Basamaklı Doğal Sayılar: 10'dan başlayıp 99'a kadar olan sayılardır.

Örnek: 10,11,12,.....95,96,97,98,99

Söyle ve Yaz



İki basamaklı en büyük doğal sayı kaçtır?

İki basamaklı en küçük doğal sayı kaçtır?

En büyük rakam kaçtır?

En küçük rakam kaçtır?

@zehra_ogrtmn


NESNE SAYILARINI BULALIM

Manavdaki meyveleri sayalım tabloya yazalım.



	Karpuz	Armut	Kivi	Çilek	Elma	Portakal	Muz	Kavun
Meyve Sayısı								

Aşağıdaki şekilleri ayrı ayrı sayıp yazınız.



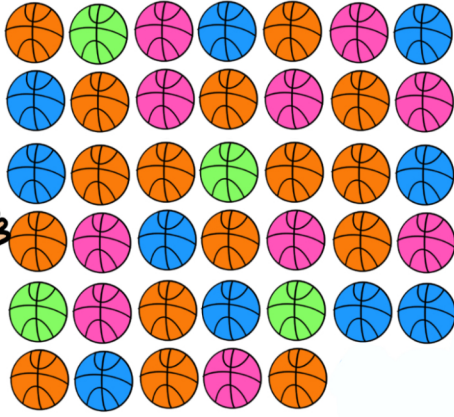
Kare:

Üçgen:

Çember:


Dikdörtgen:

Aşağıdaki nesnelere renklerine göre sayalım. Rakam ve yazıyla yazalım :)



Top	Rakamla	Yazıyla
Turuncu		
Pembe		
Mavi		
Yeşil		

@zehra_ogrtmn

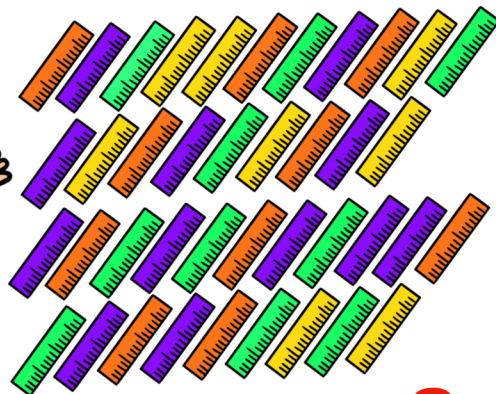


Elma	Rakamla	Yazıyla
Sarı		
Kırmızı		
Yeşil		




Kova	Rakamla	Yazıyla
Kırmızı		
Pembe		
Mavi		
Sarı		

@zehra_ogrtmn

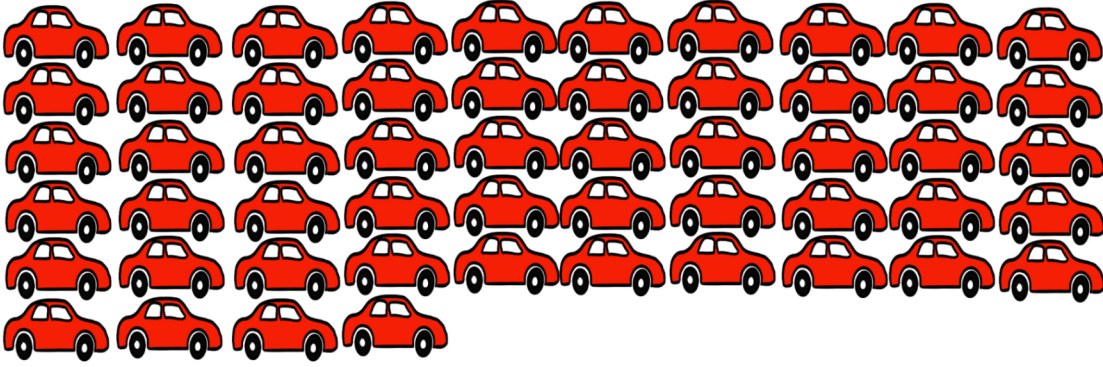


Cetvel	Rakamla	Yazıyla
Turuncu		
Mor		
Sarı		
Yeşil		


Aşağıdaki nesnelere sayalım. Nesnelere miktarına karşılık gelen varlıklarla eşleştirelim.




68



56




62



54

Kurabiyenin üstündeki şekerli çubuk süsleri istenilen sayıda ve renkte boyayalım.



→ 9 tane

→ 8 tane

→ 5 tane

→ 11 tane

→ 7 tane

→ 6 tane

Kaçar tane balon var sayıp rakamla ve yazıyla yazalım.



Balon	Rakamla	Yazıyla
Mavi		
Kırmızı		
Mor		
Yeşil		
Sarı		