
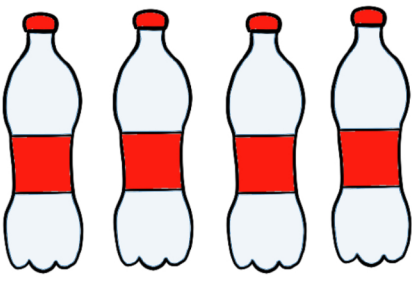




SIVILARI ÖLÇME BOYAMALI ETKİNLİK

Bir şişe 4 bardak su almaktadır. Aşağıdaki şişelerle kaç bardak su doldurulabilir? Boyayınız.




Bir demlik 7 bardak çay almaktadır. Aşağıdaki demliklerle kaç bardak çay doldurulabilir? Boyayınız.



Bir cezve 6 fincan kahve almaktadır. Aşağıdaki cezvelerle kaç fincan kahve doldurulabilir? Boyayınız.

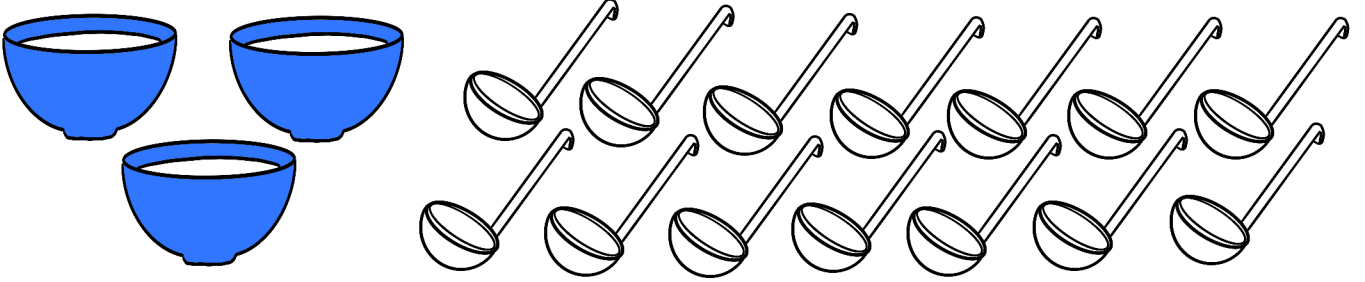


Bir tencere 3 kase çorba almaktadır. Aşağıdaki tencerelerle kaç kase çorba doldurulabilir? Boyayınız.




SIVILARI ÖLÇME BOYAMALI ETKİNLİK

Bir kaseden 2 kepçe çorba çıkmaktadır. Üç kase çorba kaç kepçedir? Boyayınız.



Bir havuz 5 kova su almaktadır. Aşağıdaki havuzları doldurmak için kaç kova su gerekir? Boyayınız.



Bir damacana 9 sürahi su almaktadır. Aşağıdaki damacanaları doldurmak için kaç sürahi gerekir? Boyayınız.



Bir kepçeden 8 kaşık çorba çıkmaktadır. Dört kepçe çorba kaç kaşıktır? Boyayınız.

