





# VERİ TOPLAMA VE DEĞERLENDİRME

A. Aşağıdaki tabloyu inceleyelim. Soruları cevaplandıralım.

OYUNCAKLAR	
	7
	9
	6
	4

a. Sayısı en az ve en çok olan oyuncakları yazalım.

En az: .....





En çok: .....

b. Bebeklerle, legoların toplamı kaçtır?

c. Arabalarla, uçakların toplamı kaçtır?

ç. Bebeklerle, arabaların farkı kaçtır?

B. Aşağıdaki tabloyu inceleyelim. Soruları cevaplandıralım.

HAYVANLAR	
	8
	10
	5
	12

a. Kuşlarla, tavşanların toplamı kaçtır?

b. İneklerle, koyunların farkı kaçtır?

c. Tavşanlarla, kuşların toplamı kaçtır ?

ç. İnekler, kuşlardan kaç fazladır ?



C. Tabloyu inceleyip soruları cevaplayalım ve tabloyu dolduralım.

@zehra\_ogrtmn

ÇOCUKLAR	YAŞLARI	ÇOCUKLAR	YAŞLARI
Bera	6	Eymen	
Yiğit	4	Eray	
Melih	10	Asaf	
Kübra	8	Zeynep	
Berk	5	Semih	

1. Eymen 3 yıl önce 5 yaşındaydı. Şimdi kaç yaşındadır ?


5. Semih geçen yıl 10 yaşındaydı. Şimdi kaç yaşındadır ?


2. Eray Eymenden 5 yaş küçüktür. Eray kaç yaşındadır?


6. Yaşı en küçük olan çocuğun adı nedir ?


3. Asaf 4 yıl sonra 11 yaşında olacak. Şimdi kaç yaşındadır?


7. Yaşı en büyük olan çocuğun adı nedir?


4. Zeynep 2 yıl önce 14 yaşındaydı. Şimdi kaç yaşındadır?


8. Yaşları aynı olan çocukların adları nelerdir ?


D. 1/A sınıfında yapılan sınıf başkanlığı seçiminde adayların aldığı oy sayıları aşağıdaki tabloda verilmiştir.

@zehra\_ogrtmn

Öğrenciler	Oy Sayıları
Kübra	6
Elif	8
Zehra	4
Sefa	5
Samet	6

1. En az oy alan öğrenci kimdir ?

.....

2. Zehra ve Sefa'nın oy sayıları toplamı kaçtır?

.....

3. Hangi öğrenciler eşit oy almıştır?

.....

4. Sınıf başkanı kim olmuştur?

.....

5. En az ve en fazla oy alan öğrencilerin toplamı kaçtır?

.....

6. Kübra'nın oy sayısı Zehra'nın oy sayısından kaç fazladır?

.....

7. Sefa'nın oy sayısı, Elif'in oy sayısından kaç eksiktir ?

.....

Çiçek Türü	Sayısı
Gül	12
Lale	8
Zambak	7

E. Yandaki tabloda bahçemizdeki çiçeklerin sayıları verilmiştir. Bu tablonun çetele tablosu aşağıdakilerden hangisidir?

A.

Gül	###
Lale	###
Zambak	###








B.

Gül	### ###
Lale	###
Zambak	###

C.

Gül	### ###
Lale	###
Zambak	###

F.

Günler	Pazartesi	Salı	Çarşamba	Perşembe	Cuma	Cumartesi	Pazar
Hava Durumu							

@zehra\_ogrtmn

1. Cumartesi günü hava durumu nasıldır ?

.....

2. Bulutlu gün hangi gündür ?

.....

3. Güneşli günler hangileridir ?

.....

4. Salı günü hava durumu nasıldır ?

.....

5. Bugün günlerden salı ise yarın hava nasıldır ?

.....

6. Bugün günlerden cumartesi ise dün hava nasıldı?

.....